

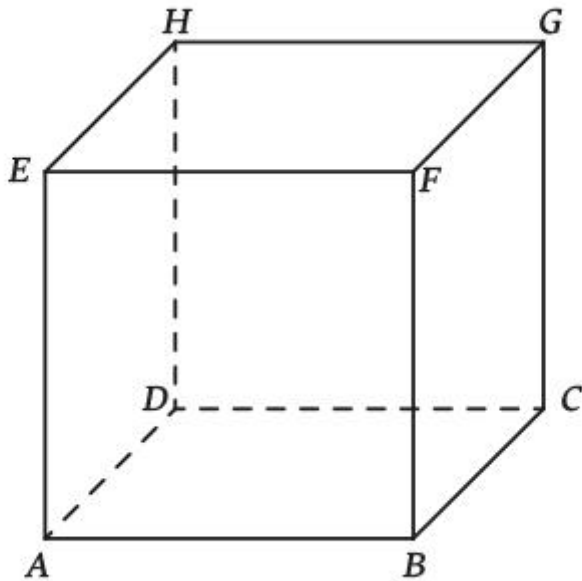
Ahoj moji šestáčky ☺

Další látka, kterou budeme probírat, bude KRYCHLE a KVÁDR. Oboje je opakování z prvního stupně, takže se nemusíte ničeho bát. Občas bude jen malinko navíc.

Do sešitu matematiky si sami uděláte zápis: (koukejte i do učebnice, strana 110 – 113)

KRYCHLE A KVÁDR

KRYCHLE:




= TĚLESO, KTERÉ MÁ VŠECHNY HRANY STEJNĚ DLOUHÉ

- POČET VRCHOLŮ: **SPOČÍTEJ A DOPLŇ**
- POČET HRAN: **SPOČÍTEJ A DOPLŇ**
- POČET STĚN: **SPOČÍTEJ A DOPLŇ**
- STĚNY KRYCHLE TVOŘÍ ČTVERCE

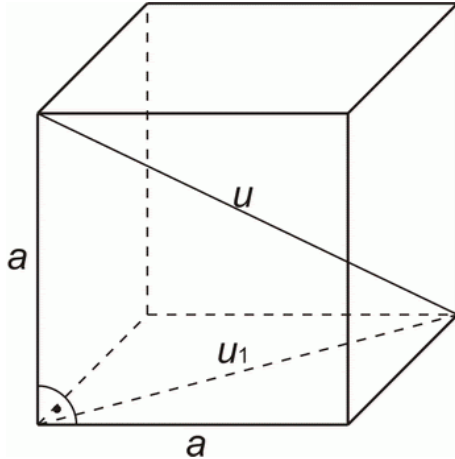
I KDYŽ JE KRYCHLE TĚLESO, JEJÍŽ HRANY JSOU STEJNĚ DLOUHÉ. BOČNÍ HRANY SE ZOBRAZUJÍ V POLOVIČNÍ VELIKOSTI.

KVÁDR:



- POČET VRCHOLŮ: **SPOČÍTEJ A DOPLŇ**
- POČET HRAN: **SPOČÍTEJ A DOPLŇ**
- POČET STĚN: **SPOČÍTEJ A DOPLŇ**
- STĚNY KVÁDRU TVOŘÍ ČTVERCE NEBO OBDÉLNÍKY

STĚNOVÁ A TĚLESOVÁ ÚHLOPŘÍČKA



u_1 ... stěnová úhlopříčka

u ... tělesová úhlopříčka

STĚNOVÁ ÚHLOPŘÍČKA JE ÚSEČKA SPOJUJÍCÍ DVA PROTILEHLÉ VRCHOLY JEDNÉ STĚNY.

TĚLESOVÁ ÚHLOPŘÍČKA JE ÚSEČKA SPOJUJÍCÍ DVA VRCHOLY, KTERÉ NELEŽÍ V JEDNÉ STĚNĚ.

- **Samostatně vypracuj cvičení 2 a 3 na straně 113 v učebnici.**

Jako důkaz toho, že neleníte a pracuje bude vyplnění testíku, který najdete na adrese:

<https://www.surveymonkey.com/survey/d/J311K6J9A1W9O3T2P>

Prosím všechny o vyplnění. Někteří mi neposílají nebo jen velmi málo.

Díky a mějte se fajn.